



Eine Aktion der VSBB Verkehrssicherheit Berlin-Brandenburg GmbH
mit freundlicher Unterstützung des
Landes Berlin und der Fuhrgewerbe-Innung Berlin-Brandenburg e. V.

SCHÜLERARBEITSBOGEN

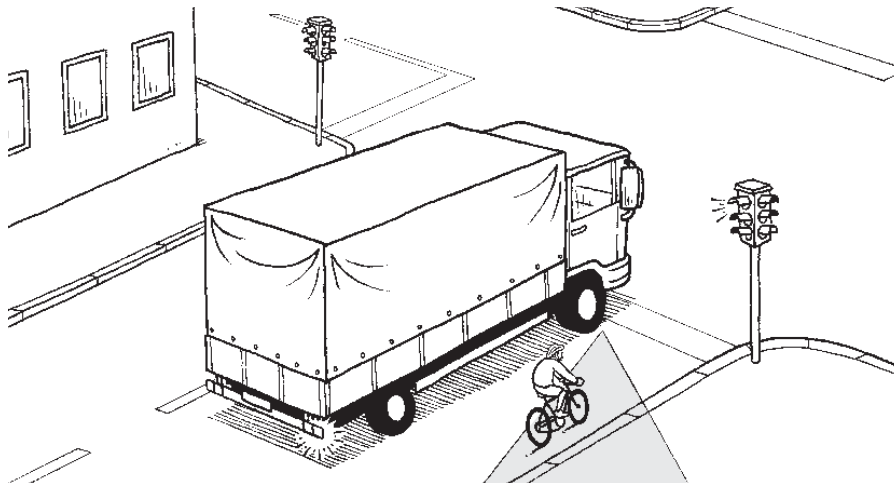
Name:

Klasse:

Datum:



Der „Tote Winkel“



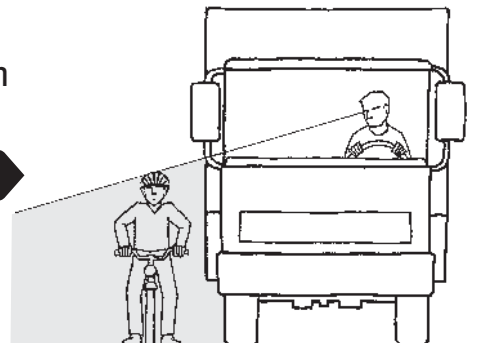
3 Obwohl der Lastwagen auf jeder Seite einen Außenspiegel hat, gibt es einen Bereich,

Man nennt ihn

Wenn du den Fahrer nicht siehst,
kann er



Achtung!
Tote Winkel gibt es auch
an anderen Stellen,
zum Beispiel



4


Was kannst du tun um die Gefahren zu minimieren?

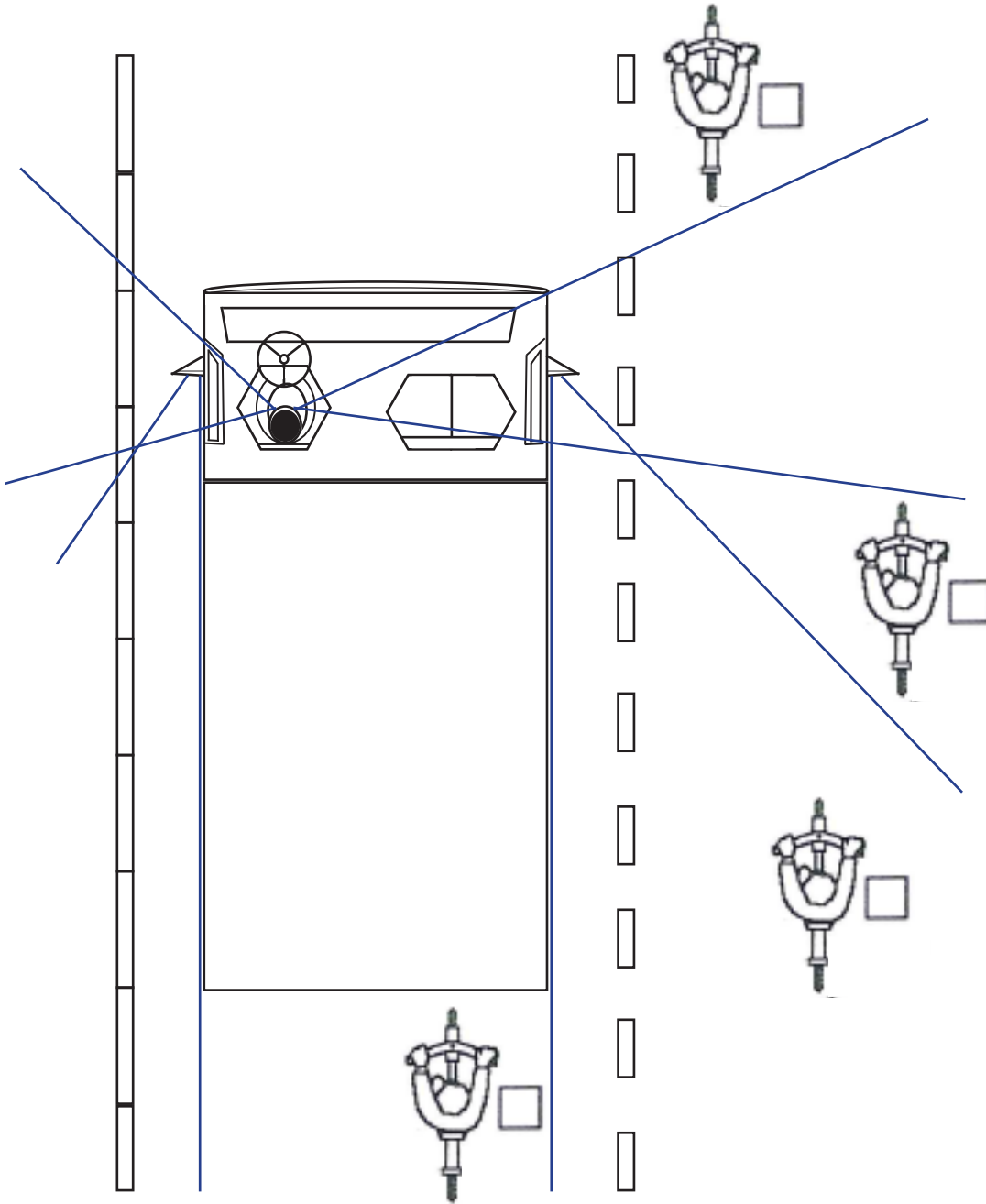
B
A
U



5 Jedes Fahrzeug verfügt über bis zu 6 Tote Winkel.

6 Bitte zeichne diese in der unten stehenden Abbildung ein.





7 Welcher Satz passt zu welchem Radfahrer auf der Zeichnung?

1. Der Lkw-Fahrer kann diesen Radfahrer auf gar keinen Fall sehen.
2. Hier ist ein toter Winkel.
3. Dieser Radfahrer ist nur im Rückspiegel erkennbar.
4. Der Lkw-Fahrer sieht diesen Radfahrer gut.

Schreibe die Kennziffern 1 bis 4 in die richtigen Kästchen neben die Radfahrer.

Wie viele von den vier Radfahrern sind für den Lkw-Fahrer sichtbar?

Der Lkw sieht ____ Radfahrer.



8 Lisa und Frank sind froh, dass es in ihrer Stadt so viele Radwege gibt. Aber auch auf dem Radweg können Unfälle passieren. **Unterstreiche, wo die beiden die Gefahren sehen und formuliere wichtige Regeln daraus.** Beispiel: *Immer aufmerksam fahren!*

Auf Radwegen kommt es immer wieder zu schweren Unfällen. Besonders gefährlich sind Kreuzungen und Einmündungen. Denn viele Autofahrer denken nicht daran, beim Abbiegen auf die Radfahrer zu achten. Beidseitig befahrbare Radwege sind ebenfalls risikoreich, weil die Autofahrer nicht mit Radfahrern aus beiden Richtungen rechnen. Auch Fußgänger denken nicht daran, dass ein Fahrrad aus der anderen Richtung kommen kann, und laufen einfach über die Straße. Außerdem kann es zu Zusammenstößen mit entgegenkommenden Radfahrern kommen. Vorsichtig müssen Radler auch auf schlecht ausgebauten Radwegen sein, weil man auf einer unebenen Fahrbahn leicht stürzt. Die Verletzungen sind oft schwerwiegend, weil man mit dem Rad ja keinen Schutzraum hat.




9 Die folgenden Abbildungen zeigen Situationen im Straßenverkehr. Beantworte jeweils die Frage zu der Abbildung.



a) Verhält sich der Junge richtig? Begründe deine Antwort!

b) Was könnte hier im fahrenden Verkehr passieren?



In welche Richtung darf der Radfahrer fahren?
Was ist hierbei zu beachten?



Herausgegeben von:

VSBB Verkehrssicherheit
Berlin-Brandenburg GmbH
Hedemannstraße 13
10969 Berlin

Tel. + 49 (30) 251 06 91

Fax: + 40 (30) 251 06 93

info@vsbb-verkehrssicherheit.de

mit freundlicher Unterstützung des
Landes Berlin

Weiteres Informationsmaterial findest du auf unserer Homepage unter

www.vsbb-verkehrssicherheit.de

